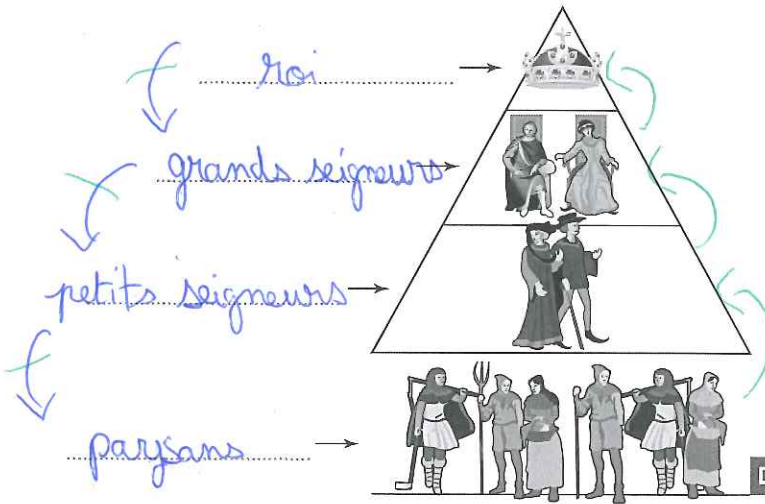




Je comprends les liens entre les seigneurs et les vassaux.




9. Complète le document avec les mots suivants :
petits seigneurs, grands seigneurs, roi, paysans.

10. Indique par des flèches sur le côté du dessin qui est « vassal » de qui.

11. Sur qui repose la société féodale ?

Sur les petits seigneurs
paysans

Doc. 3 La pyramide féodale.



Doc. 4

La bataille de Bouvines,
XV^e siècle.

12. De quand date
le document 4 ?

Du XII^e (15^e) siècle

13. Quel type de scène est illustrée ?

C'est une bataille

14. Quand se déroule cette scène ?

Pendant la bataille de Bouvines au XII^e siècle

15. Quelle catégorie de la population féodale est ici représentée ?

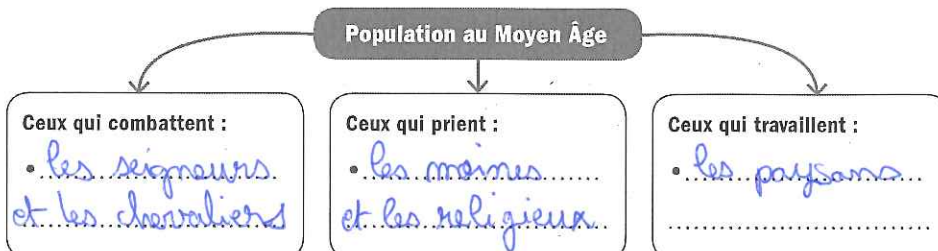
- Les paysans
- Les seigneurs
- Les moines



16. Tous les personnages de la pyramide participent-ils à la guerre au Moyen Âge ?

JE RETIENS

Complète le schéma avec les mots suivants :
les paysans, les moines et les religieux, les seigneurs et les chevaliers.



Mon petit dico

Médiéval : du Moyen Âge.

Moine : homme qui vivait dans un monastère pour prier et travailler.

Vassal : homme qui dépend d'un seigneur, d'un souverain.